



大妻多摩中学校

2023 (令和5) 年度

入学試験問題 (第1回)

【 社 会 】

時間 40分

2月1日 (水)

【 注意事項 】

1. 問題冊子は20ページまであります。
2. 指示があるまで、この冊子を開いてはいけません。
3. ページが抜けていたり、印刷が見えにくい場合には、手をあげて知らせてください。
4. 試験時間は40分です。
5. 答えはすべて、問題の指示にしたがって解答用紙に記入してください。

1 多摩子さんは、日本の島は約7,000もあることを学んで、より調べてみようと思ひ、以下の島【 A 】～【 E 】について、次のように特徴をまとめてみました。これを読んで問いに答えなさい。

【 A 】：この島は九州地方にあります。世界自然遺産に登録された雄大な自然を有しており、近辺を暖流が流れる温暖な気候です。隣には日本に①初めて鉄砲が伝来し、現在では日本最大の宇宙センターを持つ島があります。

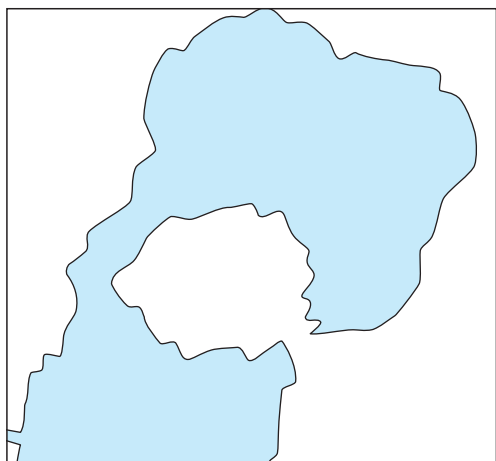
【 B 】：②この島は北海道地方にあります。日本の最北端に位置しており、本州・北海道・九州・四国以外では日本で最も大きいですが、ある国との領土争いもあり、日本人は一人も住んでいません。

【 C 】：③この島は九州地方にあります。日本と朝鮮の間に位置していることもあり、歴史的にも二つの国の橋渡しとしての役割を果たしてきました。この島の名前から取った海流が近辺を流れています。

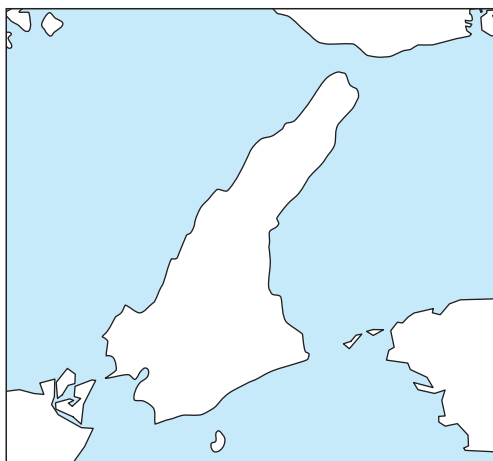
【 D 】：この島は近畿地方にあります。この島は、④ある野菜の生産で有名です。また、本州と四国を結ぶ大きな橋がかかっているほか、⑤1995年の大地震で大きな被害を受けました。

【 E 】：この島は⑥九州地方にあります。もともとは独立した島でしたが、火山の噴火により1914年以降、陸続きになりました。この島から噴出した火山灰は九州の南部に多く降り注ぎ、生活や産業にも影響を与えています。

問1. 【 A 】・【 D 】の島の形として正しいものを、以下のア～エからそれぞれ選びなさい。ただし縮尺は同じではありません。



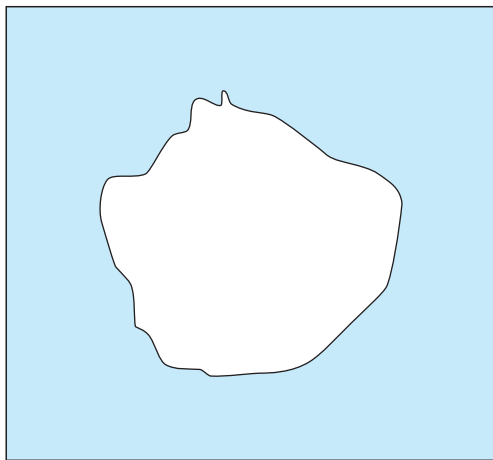
ア



イ



ウ



エ

問2. 下線部①について、この島の名前を漢字で答えなさい。

問3. 下線部②は北海道に属していますが、日本の最南端の島はどの都道府県に属していますか、都道府県名を漢字で答えなさい。

問4. 下線部③について、この島の名前を漢字2字で答えなさい。

問5. 下線部④について、次の表は、ある農林水産物の都道府県別生産量ランキングです。下線部④にあてはまる野菜を、表中のA～Eから1つ選びなさい。ただしA～Eには野菜以外のものも含まれています。

	A	I	U	E
1位	北海道	広島県	北海道	長野県
2位	兵庫県	宮城県	鹿児島県	茨城県
3位	佐賀県	岡山県	長崎県	群馬県
4位	長崎県	兵庫県	茨城県	長崎県
5位	愛知県	岩手県	千葉県	兵庫県

(2018年農林水産省統計より作成)

問6. 下線部⑤について、

(1) この地震によっておきた災害の名前を、【 D 】にあてはまる島の名前を使って漢字で答えなさい。

(2) この地震のマグニチュード（地震の規模）は7.3であり近年では2016年におこった熊本地震と同じ程度です。熊本地震の被害額が約4.6兆円といわれている一方で、この地震の被害額は約10兆円にのぼるといわれています。なぜこの地震が熊本地震と比べて大きな被害を出したのでしょうか。

資料Ⅰ と **資料Ⅱ** を見て理由を答えなさい。

資料 I

神戸市（1995 年）と熊本市（2015 年）の人口と人口密度

神戸市	人口（人）	人口密度 （人 /km ² ）
東灘区	157,599	5,189
灘区	97,473	3,104
中央区	103,711	3,644
兵庫区	98,856	6,790
北区	230,473	953
須磨区	176,507	5,884
長田区	96,807	8,447
垂水区	240,203	8,953
西区	222,163	1,610
合計	1,423,792	2,575

熊本市	人口（人）	人口密度 （人 /km ² ）
中央区	186,300	7,320
東 区	190,451	3,795
西 区	93,171	1,043
南 区	127,769	1,161
北 区	143,131	1,241
合計	740,822	1,898

※黄色でぬられた3つの区は特に大きな被害が出た地域です。

資料 II

2つの災害における住宅の被害の比較

	下線部⑤の災害 （1995 年）	熊本地震 （2016 年）
住宅の被害額	約 6 兆円	約 1.6 ～ 3.1 兆円
被害を受けた 住宅の数（棟）	約 52 万棟	約 16 万棟

内閣府資料より作成

問7. 下線部⑥について、九州地方では農業がさかんです。九州地方の農業について述べた文として誤っているものを、次のア～エから1つ選びなさい。

ア. 福岡県は九州を代表する大都市があるため近郊農業がさかんであり、特にいちごは「あまおう」などのブランドもあり、全国有数の生産量である。

イ. 宮崎県は火山灰地の影響もあり畜産がさかんで、ブランドの地鶏^{じどり}や豚^{ぶた}など、豚肉や鶏肉（ブロイラー）の出荷量は全国有数である。

ウ. 鹿児島県は畜産のほかイモ類やその他の作物も数多く生産されており、サツマイモや茶の生産量は全国有数である。

エ. 沖縄県は温暖な気候を活かした独自の農業が発展し、パイナップルやマンゴー、サトウキビなど、日本では沖縄県でしか生産していない作物も多い。

【このページに問題はありません】

- 2 次の各文章は、学級の各班が、探究テーマに関連する4人の歴史上の人物について探究活動をおこない、授業で発表をしたときの内容です。よく読んで、問いに答えなさい。

探究テーマ

武家政権と征夷大將軍

- 【1班】①彼は、弟たちに平氏追討を命じて、壇ノ浦で平氏を滅ぼしました。彼が征夷大將軍となったのは40代半ばのことでした。彼の妻は北条政子です。
- 【2班】彼は、②織田信長に協力した後、豊臣秀吉に従いました。秀吉の死後、関ヶ原の戦いに勝利し、征夷大將軍となりました。
- 【3班】彼は、③天皇の挙兵を鎮圧するため幕府から派遣されましたが、途中で幕府に反乱を起こし、六波羅探題を滅ぼしました。その後、征夷大將軍に任命されました。
- 【4班】彼は、桓武天皇に任命されて征夷大將軍となりました。朝廷の意向を受けて、太平洋側から北上して東北地方に進出し、その功績が大きかったことで有名です。

問1. 下線部①が開いた政権の本拠地は、現在の都府県でいうと、どこにありますか。正しい都府県名を、次のア～エから1つ選びなさい。

ア. 静岡県 イ. 神奈川県 ウ. 東京都 エ. 京都府

問2. 下線部②に関連する文章として正しいものを、次のア～エから1つ選びなさい。

- ア. 金閣を建立し、日明貿易をはじめた。
イ. 銀閣を建立し、応仁の乱がはじまった。
ウ. 安土城を築城し、楽市・楽座令を出した。
エ. 大阪城を築城し、刀狩令を出した。

問3. 下線部③が行った天皇中心の政治を、当時の元号から「建武の新政」といいます。この天皇の名前を漢字で答えなさい。

問4. すべての班の発表が終わった後、先生から次のような「エピソード」が示されました。

「エピソード」

【1班】の調べた人物が、征夷大將軍となる前は、罪人として20年間も流人生活を送っていました。そして、【2班】の調べた人物は子どものころに、竹千代と呼ばれており、ほとんどの時期を他の大名の人質として過ごしていました。人から見張られる不自由な生活を送ってきたという意味では、2人とも同じような経験をしたこととなりますね。

実は、【2班】の調べた人物は、【1班】の調べた人物をととても尊敬していて、【1班】の調べた人物が開いた政権の歴史をまとめた『吾妻鏡』という本を愛読していたそうです。歴史を学ぶ理由のひとつに、「過去の出来事から、なぜそれが起きたか、その原因を考え、その教訓を現代に生かすこと」があると考えられます。【2班】の調べた人物も、【1班】の調べた人物の知識や失敗から、何か学ぼうとしたのかもかもしれませんね。【1班】の調べた人物が開いた政権と、【2班】の調べた人物が開いた政権を比べてみると面白いかもしれません。

この「エピソード」に興味をもった多摩子さんは【1班】の調べた人物が開いた政権と、【2班】の調べた人物が開いた政権について比較してみることにしました。以下の「政権の比較」は多摩子さんがまとめたものです。

「政権の比較」

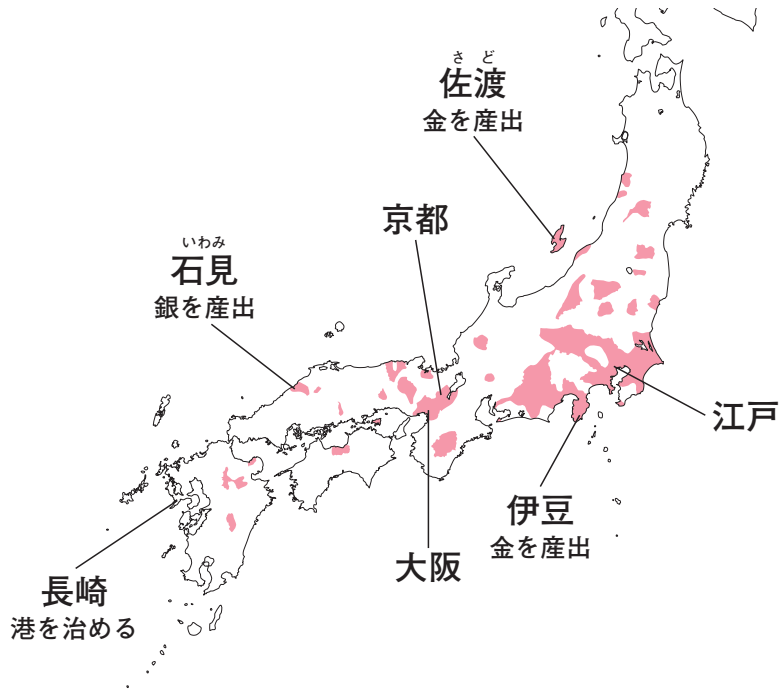
【1班】の調べた人物が開いた政権と、【2班】の調べた人物が開いた政権の共通点としては、武士に関連する法をつくったことだと思います。【1班】の調べた人物が開いた政権では御成敗式目ごせいばいしきもくが、【2班】の調べた人物が開いた政権では武家諸法度ぶけしよほつとがつくられました。

違う点は政権の長さだと思います。④【2班】の調べた人物が開いた政権は250年以上も続く長期政権であったのに対し、【1班】の調べた人物が開いた政権は、【1班】が調べた人物の一族が將軍しやうにんに就任していた期間だけに注目すると、たったの30年弱と非常に短いです。


(1) 【2班】が調べた人物の名前を漢字で答えなさい。

(2) 8ページの下線部④について、【2班】の調べた人物が開いた政権が250年以上も続く政権となった理由のひとつについて、次の【資料Ⅰ】・【資料Ⅱ】から読み取れることをもとに、幕府と大名それぞれの立場から説明しなさい。

資料Ⅰ 幕府が直接治めていた土地



資料Ⅱ 大名行列図



問5. 「エピソード」の後、先生から次のような「問いかけ」も示されました。

「問いかけ」

【1班】の調べた人物が開いた政権は、その成立の年に関していろいろな説があります。みなさんは以下の表の中で、どの説に賛成ですか？
その理由とともに考えて説明してみましょう！

成立年候補	成立年の出来事
A説 1180年	同じ目標を持つ家臣を集めて挙兵した後、本拠地を定めた。
B説 1183年	反乱勢力ではなくなり、朝廷からその立場を正式に認められた。
C説 1185年	平氏一門を滅ぼし、全国に守護・地頭を設置する権限を獲得した。
D説 1192年	朝廷から使者がやってきて、征夷大將軍に就任することが決まった。

多摩子さんは、ある説に賛成し、その理由を次のように説明しました。この「多摩子さんの考えた理由」から、多摩子さんはどの説に賛成したと考えられますか。最も適切なものを、表のA説～D説から1つ選びなさい。

「多摩子さんの考えた理由」

- 朝廷から何か権限を与えられることも大事だと思うけど、自分たちで主体的に政権をつくらうとすることが私は大切だと思います。
- 力のない朝廷から何かを認められても仕方がないので、政権の場所を決めて、家臣たちに認められることが成立だと私は考えます。

問6. 先生からの「問いかけ」を通じて、多摩子さんは **武家政権と征夷大將軍** という今回の探究テーマについて、以下のように考えるようになりました。

「多摩子さんの考え」

私は今まで征夷大將軍は「武家政権を開くための役職」であると考えていました。しかし、先生からの「問いかけ」を通じて、そうではないかもしれないと考えるようになりました。もし、本当に征夷大將軍が武家政権を開くための役職であるならば、【1班】の調べた人物が開いた政権の成立の年に関して、いろいろな説が出てくることもないと思うからです。

征夷大將軍の「夷」という漢字は、『後漢書東夷伝』や「尊王攘夷運動」に、みられるように、異民族を示す時に使用されることが多いようです。もともと征夷大將軍は【4班】の調べた人物が、(… あ …) ために朝廷から任命された役職であることを考えると、本来の目的が時代とともに変わったと考えるのが自然であると感じました。

- (1) 空らん (… あ …) にあてはまる文を、「夷」という字が含まれる語句を使って答えなさい。
- (2) 【4班】が調べた人物の名前を漢字で答えなさい。

【このページに問題はありません】

3 多摩子さんと昌子さんは、国際社会の安全保障の問題について、意見を交換しています。次の会話文を読み、問いに答えなさい。

多摩子：2023年の①終戦の日には、第二次世界大戦が終わってから78年経つことになるのに、世界が平和になったとは思えないね。

昌子：ロシアのウクライナ侵攻は世界に大きなショックを与えたからね。戦地では多くの命が失われている。戦場から離れた日本でも人々が物価高に苦しむし、アフリカでは深刻な②食料危機が心配されたんだ。

多摩子：ロシアが核兵器を保有していることも心配だ。核兵器なんて捨ててしまえばいいのに。多額のお金を費やして兵器を維持するなんて馬鹿げているよ。

昌子：過去に世界全体での核兵器数は、確かに減少したことがあるけど、③核兵器禁止条約に全世界の国々が参加する状況にはまだなっていないね。

多摩子：それでも、話し合いは重要だよ。国際連合では話し合いが行われていないのかな。

昌子：平和と安全の維持について責任をもつ安全保障理事会では、④常任理事国が一致した行動をとることができていないね。国際連合も機能を果たしていないと言えるかもしれない。

多摩子：でも、先生の話では、⑤国際社会の平和に影響を与える国際連合の組織は、安全保障理事会だけではないということだったよね。どういう意味だったんだろう。

問1. 下線部①について、日本では8月15日を「終戦の日」としています。この日は、日本が、アメリカ・イギリス・中華民国（中国）によって発せられた、ある宣言を受け入れたことを、国民に知らせた日です。この宣言をなんといいますか、答えなさい。

問2. 下線部②に関連して、^{おうべいしよこく}欧米諸国は、アフリカの食料危機の原因をロシアによるウクライナ侵攻の影響によるものとみています。多摩子さんは、昌子さんの発言を受けて、ウクライナ侵攻の影響と食料危機の^{くわ}関係について詳しく知りたいと思っていたところ、国際連合のWFP（世界食糧計画）事務局長の次のコメントを見つけました。

「^{ふんそう}紛争や気候変動、^{ひへい}新型コロナの影響で経済が疲弊しているうえに、世界の食料庫だったウクライナから食料が^{きようきゆう}供給されなくなっている。燃料や肥料のコストも^{こうとう}高騰し、世界に嵐が吹き荒れている」

多摩子さんは、このコメントから、特にウクライナから食料が供給されなくなっている理由に興味を持ち、次のページの【多摩子さんの発表】を準備しました。この準備のために、【資料A】～【資料D】を活用しましたが、その読みとりに誤りがありました。

【資料A】～【資料D】からでは判断できない内容を、下線部（ア）～（エ）から1つ選びなさい。

【多摩子さんの発表】

ロシアのウクライナ侵攻がアフリカの食料状況にもたらした影響について発表します。

4月の新聞記事を参考にして考えました。

(ア) 【資料A】 から、ロシアとウクライナは世界の小麦輸出量の25%以上を占めていることが分かります。

特に、ウクライナでは、広い地域で小麦が栽培されていますが、

(イ) 【資料B】 によると、小麦の生産量が多い地域がハルキウ周辺やオデーサ（オデッサ）周辺に集中していることが分かります。

また、

(ウ) 【資料C】 から、ウクライナで生産された小麦は、オデーサ（オデッサ）港から、黒海や地中海を経由してアフリカに届けられていることが読み取れます。

ところが、

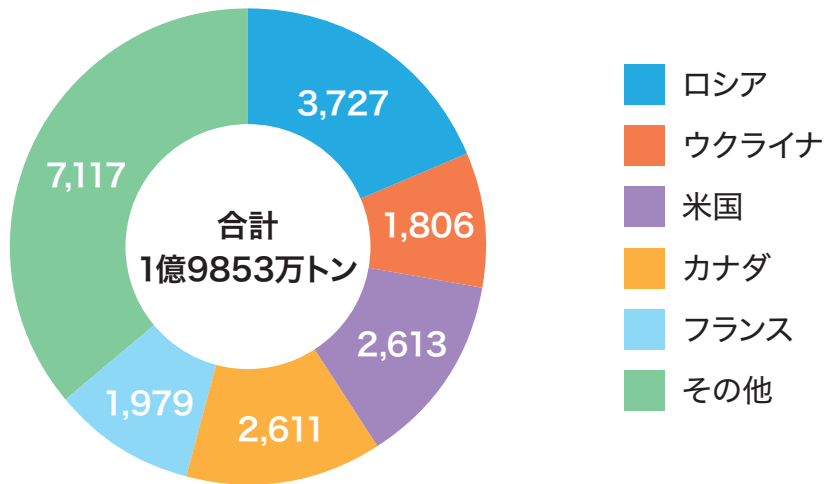
(エ) 【資料D】 によると、ロシアは4月段階でウクライナ東部地域に進軍し、ハルキウやオデーサ（オデッサ）などが攻撃を受けていることが分かります。

さらに、オデーサ（オデッサ）が接する海である黒海も、海上を封鎖ふうさされてしまい、船が出せない状況にあります。

こうした状態が続くことで、アフリカなど、食料をウクライナやロシアからの輸入に頼っていた国が苦しめられていると考えられます。

一刻も早く、戦争が終わることを願っています。これで発表を終わります。

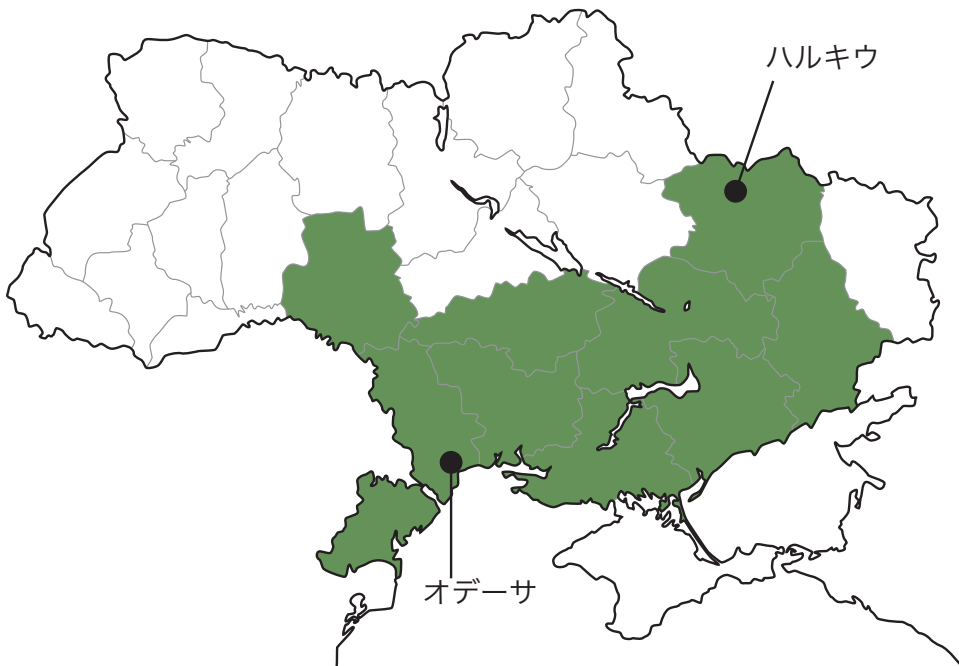
【資料A】 世界の主要小麦輸出国 (単位：万トン)



【資料B】 ウクライナの州ごとの小麦平均生産量

2021年の
生産量

150万トン未満 150万トン以上



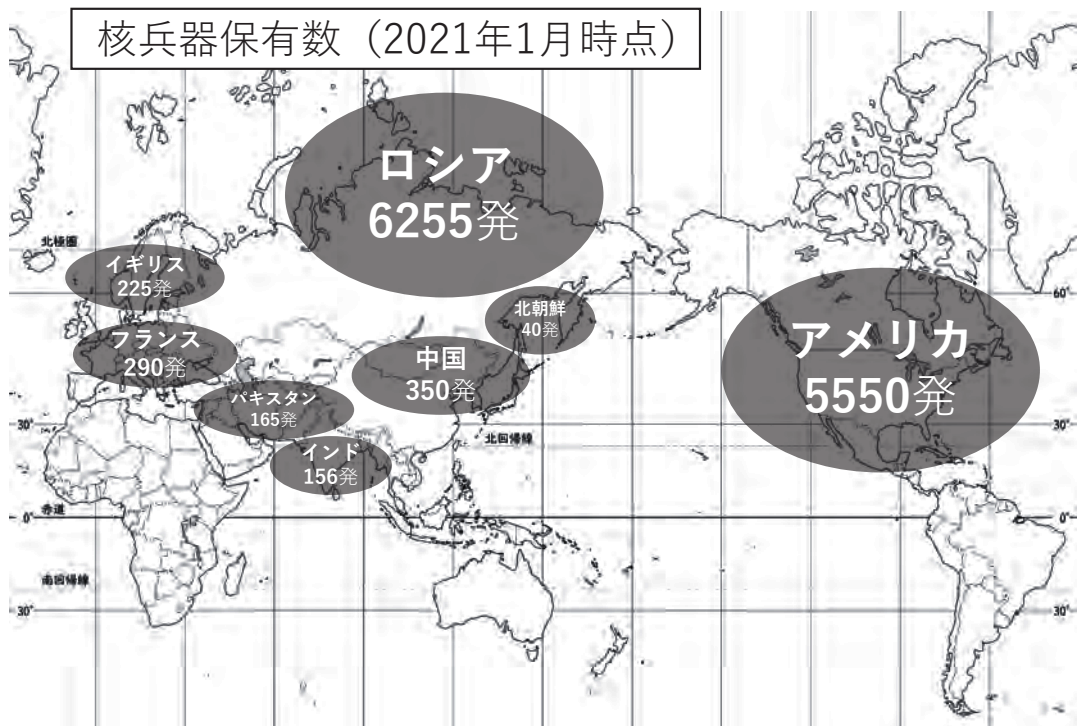
【資料C】 ロシア・ウクライナからの主な穀物の輸送ルート



【資料D】 2022年4月段階でのロシアによるウクライナへの侵攻状況



問3. 13 ページの下線部③について、唯一の戦争被爆国であり、非核三原則を掲げる日本でも、この条約へ参加するかどうか、議論が分かれています。核をもたないと決めている日本政府が条約に参加しない理由を、日本を取り巻く国々との関わりに注目して、あなたの考えを説明しなさい。以下の、世界各国の核兵器保有個数のおおよその数を示した図を参考にしてもかまいません。



問4. 13 ページの下線部④について、国際連合の常任理事国として誤っている国を、次のア～オから2つ選びなさい。

- ア. 中国 イ. 日本 ウ. イギリス エ. フランス オ. 南アフリカ共和国

問5. 13 ページの下線部⑤について、次の文章は、国際連合の一部である専門機関（ X ）の憲章の前文を一部抜き出したものです。この機関は世界遺産の登録も行っています。この文章について述べた文として誤っているものを、次のア～エから1つ選びなさい。

戦争は人の心の中で生まれるものであるから、人の心の中に平和のとりでを築かなければならない。相互の風習と生活を知らないことは、人類の歴史を通じて世界の諸人民の間に疑惑と不信を起こした共通の原因であり、この疑惑と不信の為に、諸人民の不一致があまりにもしばしば戦争となった。…この憲章の当事国は、すべての人に教育の十分で平和な機会が与えられ、…思想と知識が自由に交換されるべきことを信じて、…決意している。その結果、当事国は、世界の諸人民の教育、科学及び文化上の関係を通じて、国際連合の設立の目的であり、かつ、その憲章が宣言している国際平和と人類の共通の福祉という目的を促進するために、ここに（ X ）を創設する。

- ア. この機関は、お互いの風習と生活を知らないことで、人びとがお互いに疑惑と不信を持ち、戦争につながったと指摘している。
- イ. この機関は、人類が思想と知識を自由に交換して、価値観が完全に一致することが、戦争を防ぐただ一つの道だと認識している。
- ウ. 国際連合の設立の目的は、「国際平和と人類の共通の福祉」である。
- エ. （ X ）には、「国際連合教育科学文化機関」が入る。

問6. 多摩子さんは、SNSなどで^{こくさいじょうせい}国際情勢に関連したコメントを見て、どの情報を信じていいものか分からなくなっていました。SNSを使用するときに注意すべき点として適切ではないアドバイスを、次のア～エから1つ選びなさい。

ア. 対立する意見があるものについては、片方の主張だけでなく、もう一方の主張も確認する必要がある。

イ. SNSは身元を明かさずに情報を発信できるため、情報が信頼できるか疑いがあり、その出所を確認する必要がある。

ウ. 緊急時は、情報の正確さより新しさを重視して、積極的に発信することが重要である。

エ. 自分が目にするSNSの情報には^{かたよ}偏りがあることを前提にする。

【これより後に問題はありません】

