



大妻多摩中学校

2023 (令和5) 年度

入学試験問題 (第3回)

【 社 会 】

時間 40分

2月4日 (土)

【 注意事項 】

1. 問題冊子は11ページまであります。
2. 指示があるまで、この冊子を開いてはいけません。
3. ページが抜けていたり、印刷が見えにくい場合には、手をあげて知らせてください。
4. 試験時間は40分です。
5. 答えはすべて、問題の指示にしたがって解答用紙に記入してください。

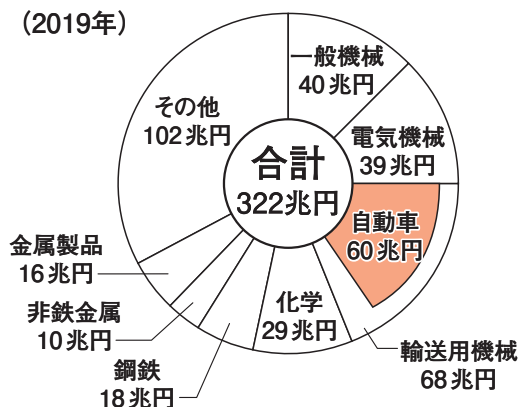
1 日本の工業に関する次の問いに答えなさい。

日本の工業は、明治時代より①京浜・中京・阪神・北九州などの工業地帯で発達してきました。第二次世界大戦後は、原料を輸入するのに便利な臨海部にコンビナートが立地し、関東地方から九州地方北部にかけての沿岸部やその周辺に太平洋ベルトとよばれる帯状の工業地域が形成されました。

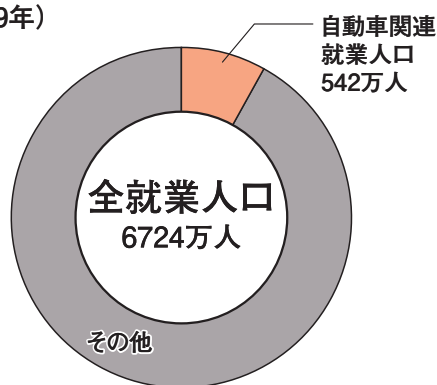
1970年以降は、輸送機械工業や電気機械工業などの組み立て型の工業が発展し、東京や大阪などの大都市圏の周辺や、東北地方や九州地方などの内陸部に②新しい工業地域が形成されました。これは、各地で交通網こうつうもうの整備が進んで工業団地が形成されたことや、組み立て型の工業の発展にともない、たくさんの部品工場が地方に分散したことが背景にあります。

機械工業は、経済成長とともに発展し、技術力を高めて国際競争力をつけました。③自動車工場は「必要なものを、必要なときに、必要な数だけつくる」という発想の「ジャスト・イン・タイム方式」を取り入れたことで、部品の倉庫をもつ必要がなく、保管費用を減らし、工場の土地を有効に利用できるようになりました。その結果、アメリカ向けを中心のに輸出が伸びました。しかしアメリカとの間で貿易（あ）がおり、④海外での現地生産が進みました。

主要製造業の製造品出荷額
(2019年)



自動車関連の仕事をしている人の割合
(2019年)



総務省・経済省資料より作成

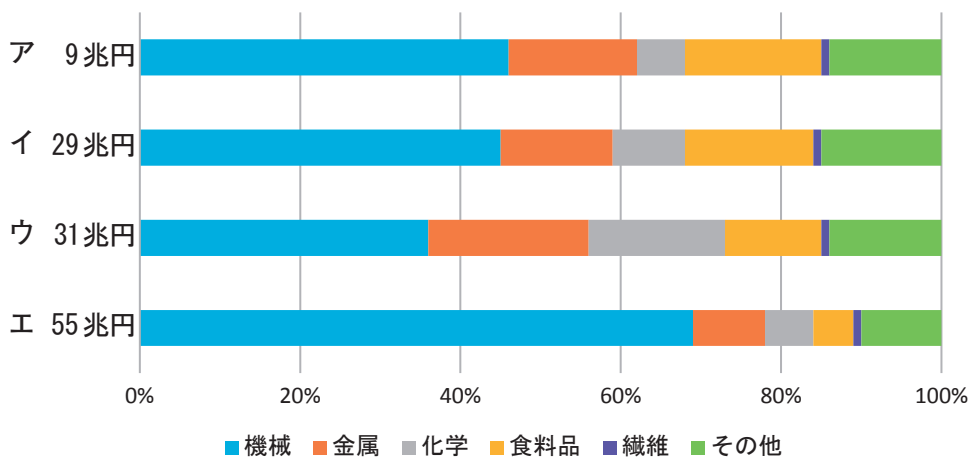
問1. 1 ページの2つの円グラフから読み取れることとして誤っているものを、次のア～エから1つ選びなさい。

- ア. 自動車関連の仕事に就いている人の割合は、わが国の全就業人口の10%を超えない。
- イ. 自動車の出荷額は、輸送用機械の中で80%以上を占める。
- ウ. 自動車の出荷額は全体の20%以上を占め、重要な工業製品といえる。
- エ. 輸送用機械の出荷額は、一般機械と電気機械の出荷額の合計より少ない。

問2. 下線部①および下線部②に関する問いに答えなさい。

- (1) 次のア～エのグラフは中京・阪神・北九州工業地帯および関東内陸工業地域の工業生産額を表したものです。中京工業地帯および関東内陸工業地域のグラフにあてはまるものを、次のア～エからそれぞれ選びなさい。

工業地帯・工業地域別の工業生産額(2016)



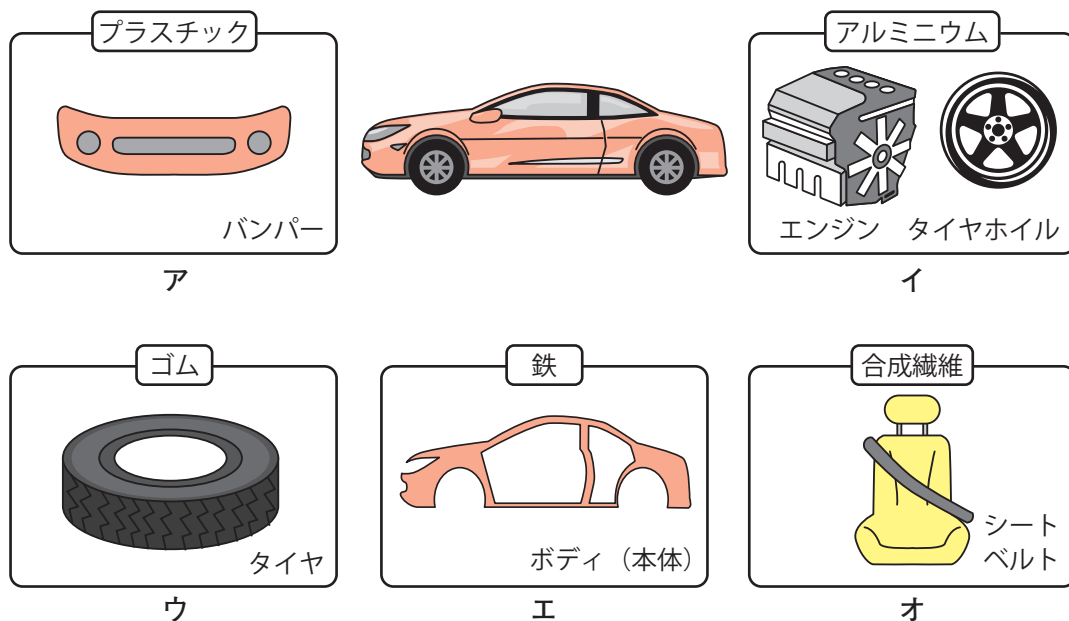
経済産業省資料より作成

(2) 関東内陸工業地域で自動車産業が発展した理由としてあてはまるものを、次のア～エから1つ選びなさい。

- ア. 高速道路が整備された。
- イ. 鉄道が整備された。
- ウ. 利根川の水運が整備された。
- エ. 空港が整備された。

問3. 下線部③に関する問いに答えなさい。

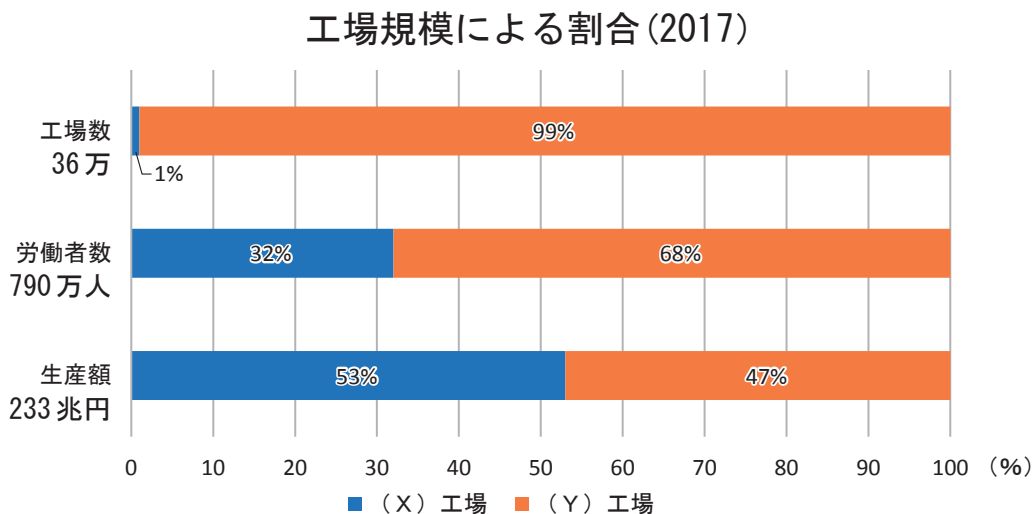
(1) 自動車工場はもともと太平洋ベルトに集中していました。それは2万から3万あるといわれる自動車の部品の原材料の多くを、外国から輸入しているからです。下の図は主な自動車の部品を表しています。この中で石油化学コンビナートで生産されない製品を、図のア～オから2つ選びなさい。



(2) 日本の自動車工場の多くは「ジャスト・イン・タイム方式」を取り入れて発展してきました。2011年の東日本大震災においては、太平洋ベルトに集中している組み立て工場の被害は小さかったにもかかわらず、生産が止まってしまいました。これはどうしてだと思いますか。理由を具体的に説明しなさい。

問4. 1 ページの文章中の (あ) にあてはまる語句をひらがなで答えなさい。

問5. 下線部④によって日本の工場が縮小・閉鎖し、産業全体が衰退する「産業の空洞化」が進行しました。下のグラフを見ると、日本の工場数の大部分を占めるのは従業員が300人未満の (Y) 工場です。(Y) にあてはまる語句を漢字で答えなさい。



経済産業省資料より作成

問6. 自動車産業において、今後はA I (人工知能) が深く関係する自動運転が注目されています。今後の社会を豊かにしていくための自動運転によるメリットとして考えられることを答えなさい。

2 次のA～Fは、中国との関わりが深かった人物について述べた文章です。これについて問いに答えなさい。

- A. この人物は歴史の教科書で最初にその名前が登場する女性です。この人物が中国の皇帝に使者を送ったことに対して、中国の皇帝は「この人物に親魏倭王の称号と金印を授ける」という文書をその使者に与えました。
- B. この人物は天皇の政治を助ける役職についていました。この人物は中国の皇帝に①使者を送り、「日が出るところの天子が、日が沈むところの天子に手紙をさしあげます。お元気ですか」と書いてある天皇からの②手紙を中国の皇帝に渡しました。
- C. この人物は武士としてはじめて太政大臣になりました。自分のむすめを天皇のきさきにして、朝廷の重要な地位の多くをこの人物の一族が占めました。また③兵庫の港を整え中国との貿易をおこないました。
- D. この人物は政治をすすめる④幕府の重要な役職につきました。中国を支配していた国が日本も従うように何度も使者を送ってきました。しかし、この人物は要求を断ったので、日本とこの国との間で戦いが起き、日本は二度しりぞけました。
- E. この人物は⑤幕府の3代目の将軍になりました。力をつけてきた各地の守護大名をおさえて、将軍の権威を高めました。また中国の皇帝に使者を送り、皇帝から日本の支配者としての⑥称号を与えられ貿易をはじめたことで、幕府は大きな利益を得ました。
- F. この人物は初代の内閣総理大臣になり、中国との戦争を終わらせるために開かれた講和会議に日本の代表として参加しました。この会議で結ばれた条約によって、日本は中国から台湾や遼東半島などをゆずり受け、多額の賠償金を得ました。

問1. Aの人物が^{おさ}治めた国について述べた文として誤っているものを、次のア～エから1つ選びなさい。

ア. この国では王を除いて、^{のぞ}その他の多くの人々の間では身分の差がほとんどない平等な社会であった。

イ. 男の王のもとでは国どうしの争いが続いたが、Aの人物が女王になると、争いがおさまった。

ウ. この国の位置は、この国について書かれている中国の歴史書の文章の読み方が研究者によって異なるため、正確には分かっていない。

エ. この国では、女王であるAの人物が神のおつげを人々に伝えて、政治はAの人物の弟がおこなっていた。

問2. Bの人物がおこなったことを述べた文として正しいものを、次のア～エから1つ選びなさい。

ア. 能力よりも身分や家柄を^{いえがら}重視して役人に取り立てる制度を整えた。

イ. 有力な豪族であった^{こうぞく}蘇我氏を^{そが}滅ぼして^{ほろ}天皇中心の政治を行った。

ウ. 仏教を^{さか}盛んにするために^{あすか}飛鳥地方に東大寺を建てた。

エ. 役人の^{こころえ}心得を示す十七条の憲法を定めた。

問3. 下線部①について、この使者の名前を、次のア～エから1つ選びなさい。

ア. ^{あべのなかまろ}阿倍仲麻呂 イ. ^{おののいもこ}小野妹子 ウ. ^{がんじん}鑑真 エ. ^{すがわらのみちざね}菅原道真

問4. 下線部②について、これまでとは異なり、この手紙は日本と中国が対等な立場として書かれていたので、中国の皇帝は不機嫌になりました。しかし皇帝は、日本と友好な関係を保つために、返事の手紙を持たせた中国人の使者を日本に送りました。なぜ中国の皇帝はこのようなことをおこなったのでしょうか。次の当時の地図と、文章を参考にして答えなさい。

地図



文章

- ・ 中国は高句麗と対立しており、後に戦争もおこった。
- ・ 日本は朝鮮半島の南部に大きな影響力を持っていたこともあった。
- ・ Bの人物のまわりには高句麗から来た僧が政治をたすける目的で働いていた。

問5. 下線部③について、Cの人物は若い頃に、兵庫にちかい国の国司として海上交易を管理していました。この人物は航海の安全を祈るために、ある神社を整えました。この神社は現在でも残っており、世界文化遺産にも登録されています。この神社は何県にありますか、次のア～エから1つ選びなさい。

- ア. 愛媛県 イ. 岡山県 ウ. 香川県 エ. 広島県

問6. 下線部④について、この役職名を漢字で答えなさい。

問7. 下線部⑤について、この幕府があった時代に栄えた文化について述べた文として正しいものを、次のア～エから1つ選びなさい。

- ア. 部屋をふすまや障子しょうじでしきりたたみ畳をしきつめる書院造の建物が建てられた。
- イ. かな文字を使うことで文章の表現力が高まり、すぐれた文学作品が書かれた。
- ウ. インドや中国の影響えいきょうを大きく受けた仏像などが作られた。
- エ. 歌舞伎役者や名所の風景を題材とした色あざやかな浮世絵うきよゑが数多く印刷された。

問8. 下線部⑥について、Eの人物は中国の皇帝から「日本国○」の称号を与えられました。A～Dの各文を参考にして「○」にあてはまる漢字1字を答えなさい。

問9. Fの人物について述べた文として誤っているものを、次のア～エから1つ選びなさい。

- ア. 岩倉使節団に参加して、ヨーロッパやアメリカの政治の仕組みや文化を学んだ。
- イ. 長州藩ちやうしゅうの出身で、幕府をたおす運動に参加した。
- ウ. イギリスと粘り強く話しあいねばを続けて、不平等条約の改正に成功した。
- エ. ドイツなどの憲法を調べ、大日本帝国憲法の案をつくった。

問10. A～Fの人物が関わった当時の中国の国名は、次の語群のいずれかにあてはまります。A～Fの人物が関わった中国の国名にあてはまらないものを、語群の中から1つ選んで解答らん に書きなさい。

語群 [魏ぎ 元げん 清しん 隋ずい 宋そう 唐とう 明みん]

3 次の文章は多摩子さんとお父さんの会話です。これを読んで、問いに答えなさい。

多摩子さん「お父さん、来月、最高裁判所に社会科見学に行くことになったんだけど、どんなところか知っている？」

お父さん「最高裁判所は全国の裁判所の中で最も重要な裁判所なんだ。日本に1つしかなく、国の政治にも大きな影響えいきょうを与えているよ。」

多摩子さん「学校では裁判所の持つ権限けんげんを司法権と呼ぶって習ったけど、大きな影響って、たとえば何があるの？」

お父さん「たとえば憲法を守り、法律や行政が憲法に違反していないかチェックする機能があるよ。だから憲法の **あ** と呼ばれているんだ。実際に憲法違反との判決を下された事例もある。」

多摩子さん「へえ、そんなこともあるんだ。少し調べてみようかな。」

その後、気になった多摩子さんは、最高裁判所で違憲判決が出た事例をホームページなどをみて調べ、まとめてみました。以下の **多摩子さんのメモ** はそれをまとめたものです。

多摩子さんのメモ

『薬局が開けない？』

事例 薬局を開きたいのに近くに薬局があると開けない！

問題点 薬局と薬局との距離が離れていなければならないという法律があった。

結果 この法律は（ A ）の自由に反しているとして無効むこうになった。

『神社にお金を支払ったらダメ？』

事例 ある県が、税金で神社に玉串料たまぐしりょう（神様そなへのお供えのお金）を支払った。

問題点 地方公共団体が神社にお金を支払うという行為が、特定の宗教を支援していることになるのではないかと？

結果 この行為は（ B ）の自由に反しているという判決になった。

『日本人なのに、アメリカに住んでいたのに日本の選挙で投票できない！』

事例 海外に住んでいると日本人でも選挙で投票できない！

問題点 海外に住む日本人の選挙権は認められないという①公職選挙法の決まりがあった。

結果 この決まりは参政権の侵害であるとして無効になった。

問1. **あ** に当てはまる言葉を漢字2字で答えなさい。

問2. **多摩子さんのメモ** 中の (A)・(B) に入る適切な語句を、次のア～オからそれぞれ選びなさい。

ア. 表現 イ. 思想・良心 ウ. 職業選択 エ. 信教 オ. 身体

問3. **多摩子さんのメモ** 中の下線部①について、現在の公職選挙法において、国の選挙で認められていない行為を次のア～エから1つ選びなさい。

ア. 候補者が SNS などを使い、投票日前日に自分への投票を呼びかける。

イ. 選挙の当日が忙しいので、事前に投票をすませる。

ウ. 日本に一定の年数以上居住すると、日本国籍を持っていなくても投票ができる。

エ. 投票日の3日前に電話で友人に、自分が支持する候補者への投票をよびかける。

問4. 近年の選挙においては、一票^{いっぴょう}の格差の問題が、憲法違反かどうか議論されています。

次の表は2022年7月に行われた参議院議員選挙についての資料です。

なお、有権者とは投票することができる人のことを言います。

- (1) この表を参考に、今回の参議院議員選挙の一票の格差が最大でおよそ何倍になるか、整数で答えなさい。
- (2) 一票の格差が問題とされているのはなぜでしょうか、「平等」という言葉を使い説明しなさい。

資料：参議院議員選挙（2022年）での議員1人あたりの有権者数

順位	選挙区名	議員1人あたりの有権者数（人）
1	神奈川県	1,924,196
2	宮城県	1,921,486
3	東京都	1,909,137
4	新潟県	1,866,525
5	大阪府	1,824,962
~~~~~		
41	香川県	808,630
42	和歌山県	796,272
43	山梨県	684,292
44	佐賀県	672,782
45	福井県	635,127

※参議院議員選挙の選挙区選挙は都道府県ごとに投票が行われるが、鳥根県と鳥取県、高知県と徳島県は2つの県を合わせて1つの選挙区としているため、全部で45の選挙区がある。

※神奈川県選挙区は補欠選挙が同時に行われたため、当選議員の数（5人）が定数（4人）よりも多い。今回は4人で計算している。

**【これより後に問題はありません】**





